

| | |
|---------|---|
| Name: |  |
| Klasse: | |

Küstenformen

Aufgabe 1:



a) Löse das Rätsel.
 b) Erläutere das Lösungswort, das du erhältst, wenn du die nummerierten Buchstaben in die richtige Reihenfolge bringst. Berücksichtige bei deinen Erläuterungen die Abbildung von der Ostseeküstenlandschaft um Rügen.

1. Vor etwa 11000 Jahren entstand in eisfreien Bereichen des Ostseebeckens der sog. ... Eisstausee.
2. europäisches Binnenmeer
3. Insel im westen von Rügen
4. Vom Gletscher weiträumig verlagertes Gesteinsblock

| | | | | | | | | | |
|---|----|--|----|----|--|--|----|----|--|
| 1 | 01 | | | | | | | | |
| 2 | 02 | | | | | | | | |
| 3 | | | 03 | 04 | | | | 05 | |
| 4 | | | | | | | 06 | | |

Lösungswort:

| | | | | | |
|----|----|----|----|----|----|
| 01 | 02 | 03 | 04 | 05 | 06 |
|----|----|----|----|----|----|

Name:

Klasse:



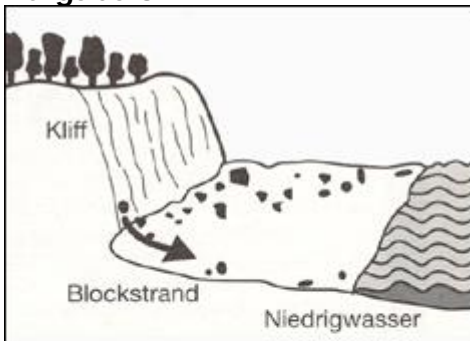
Aufgabe 2:



Dieses Ölgemälde wurde 1818 von Caspar David Friedrich gemalt. Es zeigt im Hintergrund die Ostsee. Berate mit deinem Nebensitzer/deiner Nebensitzerin:

Welcher Ostseebereich ist hier dargestellt? Um welches Gestein handelt es sich?

Aufgabe 3



Erläutere die in den Abbildungen dargestellten Prozesse und erkläre den Zusammenhang zwischen den Abbildungen 1a und 1b und Abbildung 2.

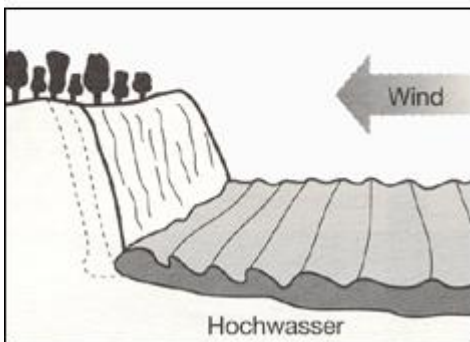


Abbildung 1a und 1b

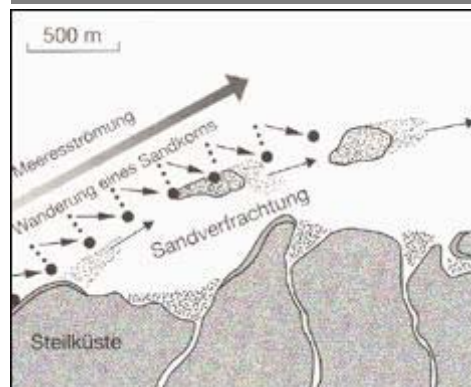


Abbildung 2