

Name:

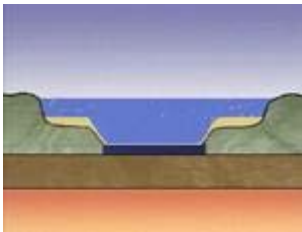
Klasse:



Ein geologischer Unfall


a) Die Reihenfolge der Abbildungen ist durcheinander geraten. Trage die Nummern 1-6 in die Abbildungen ein, sodass eine sinnvolle Reihenfolge entsteht.

b) Trage folgende Begriffe in den Lückentext ein: Schelf - Faltung - Graben - Erdmantel - Sedimentation - Konvektionsströme - Skelette - Ozeanboden - Afrika - Hebungen - Schalen



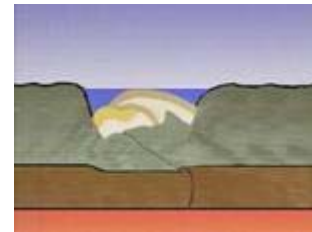
Nr. ____

In dem Meer sinken _____ und _____ auf den Grund, man spricht von _____.



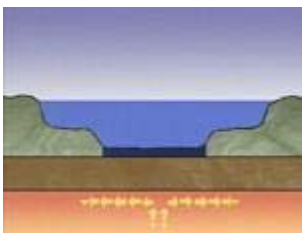
Nr. ____

Vor Afrika entsteht ein _____, in dem _____ mit den abgelagerten Sedimentschichten verschluckt wird.



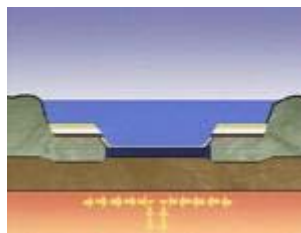
Nr. ____

Afrika und Europa sind kollidiert. _____ übt von Süden her Druck aus. Deshalb kommt es zur _____ der Gesteinsschichten. Sie werden auf das europäische _____ gedrückt.




Nr. ____

Afrika und Europa driften auseinander. "Motor" sind _____ im Erdinnern.



Nr. ____

Die Strömung im _____ kehrt sich um. Deshalb wandert Afrika auf Europa zu.



Nr. ____

Durch weitere _____ und Gebirgsbildung entstehen die Alpen.