



SCHATTEN AUF WANDERSCHAFT


GROSSE SCHATTEN, KLEINE SCHATTEN

-  1. Überlegt euch einen Versuch, mit dem ihr kleine und große Schatten darstellt.
 Die Versuchsmaterialien liegen für euch bereit.

a. Skizze und Durchführung:

--	--

b. Beobachtung:

-  2. Was müsst ihr tun, damit euer Schatten auf Wanderschaft geht?
 Notiert dazu zunächst eure Vermutungen und überprüft sie dann.

a. Vermutung:

b. Durchführung:

-   c. Skizziert euer Ergebnis in Teilabschnitten und notiert die Beobachtung:

--	--	--