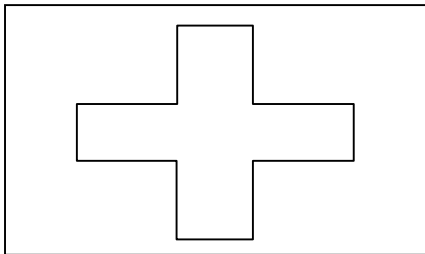



Teil 1 M1 – Länder und Flaggen

Der Rhein ist von seiner Quelle bis zur Mündung mehr als 1200 Kilometer lang. Sechs Länder liegen an diesem Fluss.

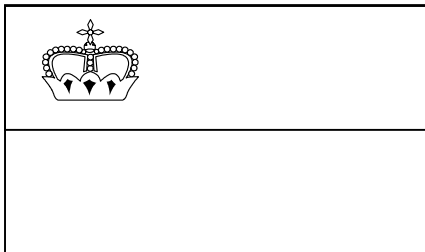
- Aufgabe:
1. Finde die Länder mit Hilfe einer Karte heraus.
 2. Schreibe ihre Namen unter die entsprechenden Fahnen.
 3. Male die Flaggen mit den richtigen Farben aus.




Sch _____



Ö _____



L _____



F _____



D _____



N _____