
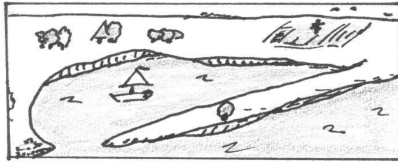







3.1 An der Ostseeküste - Küstenformen

An der Ostsee gibt es die unterschiedlichsten Küstenformen. Man hat ihnen komplizierte Namen gegeben. Auf den unteren Abbildungen erkennst du fünf Küstenformen.

■ Hier sind die Texte leider durcheinandergeraten. Ordne sie richtig zu!

- | | | |
|--|---|--|
| <p>1. Steil erhebt sich das Kliff über den Strand. Fast senkrecht geht es hinauf. Abgestürzte Bäume und Steinbrocken liegen am Strand. (Kliffküste)</p> | <p>Nr.</p> <p><input type="radio"/></p> |  |
| <p>2. Lang gestreckte Meeresbuchten greifen weit ins Landesinnere hinein. (Fördenküste)</p> | <p><input type="radio"/></p> |  |
| <p>3. Die flache Küste verläuft meistens geradlinig. Die Buchten sind vom Meer getrennt und sehen aus wie Binnenseen. (Ausgleichsküste)</p> | <p><input type="radio"/></p> |  |
| <p>4. Die Küste ist ganz "zerlappt" und zerklüftet - mit vielen kleinen Inseln. Es gibt viele Buchten. (Boddenküste)</p> | <p><input type="radio"/></p> |  |
| <p>5. Lang gezogene Landzungen ragen weit ins Meer hinein und trennen die Buchten teilweise ab. (Haff- / Nehrungsküste)</p> | <p><input type="radio"/></p> |  |

► Zum Film: Welche der oben gezeigten Küstenformen liegt eigentlich bei Stettin an der Odermündung vor?

► Warst du im Urlaub schon einmal an der Ostsee? Wie sah es dort aus? Berichte.

☀ Recherche: Welche Küstenform liegt eigentlich an der Nordsee vor? Gibt es Unterschiede zur Ostsee?

📊 Atlasarbeit: Wie weit ist es von deinem Wohnort bis nach Stettin? Wie weit ist der Weg bis zur Ostsee? - Und zur Nordsee? - Wohin würdest du eher in den Urlaub fahren? Warum?